

文科综合(第十模拟)

【命题报告】 本套试卷具有如下四大特点: 1. 注重双基。严格按照最新《考试大纲》编写, 并根据 2005 年高考命题特点, 注重对基础知识和基本技能的考查, 难度适中, 知识点布局合理。2. 题型稳定。按照 2005 年高考全国卷 I 模式进行命题, 题量一致, 既具有综合性, 又给考生留下足够的思维空间。3. 联系现实。联系国际、国内重大时政热点进行命题和多角度分析。如历史部分的海防、海权、经济文化交流、建设民主法治政府等。政治部分的如新的《月饼强制性国家标准》的出台、联合国成立 60 周年首脑会议、党员先进性教育、国务院全国应急管理工作会议的召开、温家宝在广东考察, 力求把最新的时政与学生所学的高中政治知识相结合。4. 注重能力。当前高考在强调基础的同时, 非常重视对学生能力的考查, 高考命题的趋势由知识立意向能力立意转化, 所以本试卷在命题过程中充分突出了这一特点。

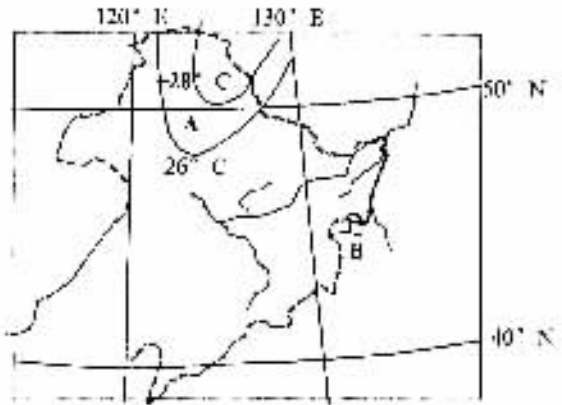
本试卷分第 I 卷(选择题)和第 II 卷(非选择题)两部分。满分 300 分。考试时间 150 分钟。

第 I 卷(选择题 共 140 分)

一、本卷共 35 小题, 每小题 4 分, 共计 140 分。在每小题列出的四个选项中, 只有一项是最符合题目要求的。

下图为我国东北地区一月等温线图, 读图回答 1—3 题。

1. A 地区等温线向南凸出的原因是
 - A. 大气环流的影响
 - B. 太阳辐射的影响
 - C. 森林的影响
 - D. 地形的影响
2. 关于 B 湖泊的成因和特征的叙述, 正确的是
 - A. 构造湖 淡水湖
 - B. 构造湖 咸水湖
 - C. 火山湖 淡水湖
 - D. 河迹湖 咸水湖
3. A 地区早期并不从事畜牧饲养, 后来因受到南方人驯养牛和马的启示, 开始驯养驯鹿。这一现象的文化传播属于
 - A. 迁移扩散
 - B. 传染扩散
 - C. 等级扩散
 - D. 刺激扩散



读中国能源跨地域调配线路示意图, 回答 4—

- 6 题。
4. 我国能源跨地域调配工程的重要意义在于

- ① 弥补东部地区能源消费的缺口
- ② 减少东部地区的环境污染
- ③ 加速新疆的经济开发
- ④ 改善西部地区的能源结构

- A. ①②
- B. ②③
- C. ②④
- D. ①④

5. 其中全部由水能转化而来的输能线路是

- A. A 线
- B. B 线
- C. C 线
- D. D 线

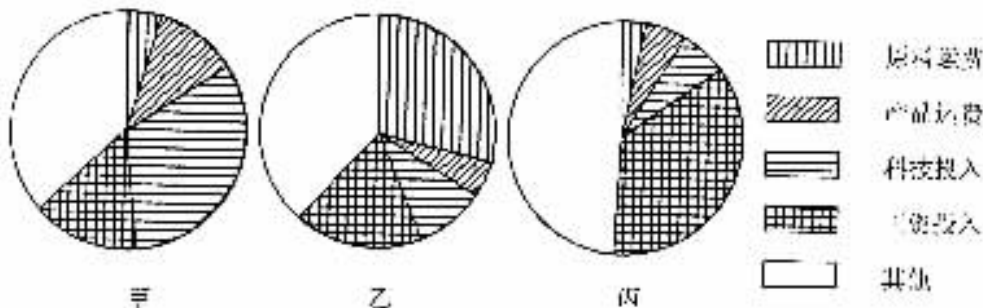
6. 修建线路时, 受自然条件影响最大的是

- A. A 线
- B. B 线
- C. C 线
- D. D 线



读下列工业产品比例图, 回答 7—9 题。

7. 具有乙类工业区位特征的工业产品, 下列工业布局合理的是



- A. 在舟山建水产品加工厂
B. 在上海建钢铁厂
C. 在广州建棉纺织厂
D. 在南京建石油化工厂

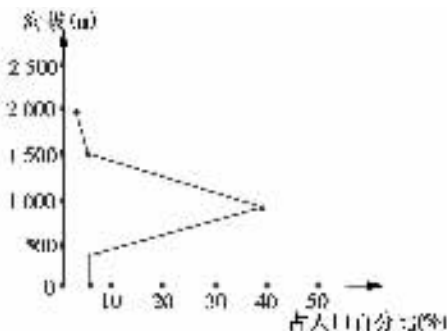
8. 在我国,发展甲类工业最有优势条件的地区是

- A. 闽南三角地带 B. 长江三角洲 C. 山东半岛 D. 辽东半岛

9. 与丙图相符合的工业产品可能是

- A. 集成电路产品 B. 铝锭 C. 水果罐头 D. 皮鞋

读某地区人口分布与海拔高度相关示意图,完成10—11题。



10. 图示现象最可能反映的地区是

- A. 长江上游与中游的过渡地带 B. 巴西高原与亚马孙平原的过渡地带
C. 恒河平原与喜马拉雅山的过渡地带 D. 波河平原与阿尔卑斯山的过渡地带

11. 有关图中500 m以下人口少于1000 m左右人口的解释正确的是

- A. 炎热湿润,不适合人类居住、生活 B. 气候干燥,自然资源贫乏
C. 沿海低地,海水淹没农田 D. 峡谷地带,交通极为不便

中国自古以来就非常重视发展对外经济交流和文化交流。据此回答12—13题。

12. 对造纸术西传的叙述,正确的是

- A. 隋朝时由波斯人传入西方
B. 唐朝时造纸术传入阿拉伯,又通过阿拉伯传入欧洲
C. 波斯商人在唐朝时介绍到罗马
D. 西汉时经“丝绸之路”传入欧洲

13. 中国的四大发明中,最晚传入欧洲的是

- A. 造纸术 B. 活字印刷 C. 指南针 D. 火药

十七、十八世纪以来,民主思想不断发展,政治民主成为人类社会发展的历史潮流。回答14—18题。

14. 下列历史文献中,体现了“人民主权”学说的是

- A. 《资政新篇》 B. 《新学伪经考》
C. 《中华民国临时约法》 D. 《中华民国约法》

15. 抗日战争胜利后,中国共产党努力争取实现和平民主,下列体现了这一努力的重大事件是

- ①中共七大 ②土地改革 ③重庆谈判 ④政治协商会议

- A. ①② B. ③④ C. ①③ D. ②④

16. 1954年《中华人民共和国宪法》

- ①规定了国家的性质是人民民主专政的国家
- ②确定了我国根本政治制度人民代表大会制
- ③体现了人民民主和社会主义两大原则
- ④宣告人民政协完成历史使命

A. ①②③ B. ①②④ C. ②③④ D. ①②③④

17. 英国早期启蒙思想家霍布斯与洛克的共同主张是

- A. 国家应保护私有财产
- B. 人民有权推翻专制君主的暴政
- C. 权力的“制约和平衡”
- D. 国家是通过社会契约建立的

18. 孟德斯鸠提出三权分立的主要目的是

- A. 解决专制弊端
- B. 实现天赋人权
- C. 建立平等社会
- D. 加强中央集权


科学技术是推动社会发展的积极动力。14 世纪以来,由于近代科学的发展,使整个世界的面貌和人类生活发生了翻天覆地的变化。回答 19—23 题。

19. “他用这本书向自然事物方面的教会权威挑战。从此自然科学便开始从神学中解放出来……。”引文中的“他”是指

- A. 但丁
- B. 哥白尼
- C. 牛顿
- D. 达尔文

20. 随着图示纺织机器的出现,世界经济领域的一场革命开始了,在这一革命进程中,美国与法国相比所面临的困难是

- A. 没有建立起资产阶级共和制度
- B. 没有完成国内市场的统一
- C. 战争不断,政局混乱
- D. 资源贫乏,市场狭窄



珍妮纺纱机

21. 石油逐渐成为一种重要能源,在社会经济和生活中起着越来越重要的作用,主要是因为

- A. 内燃机的发明和应用
- B. 飞机、汽车等新的交通工具的出现
- C. 化学工业的产生和发展
- D. 可持续发展的需要

22. 下列各项,属于第一次工业革命中出现的新兴工业部门是

- ①电力工业 ②机器制造业 ③交通运输业 ④化学工业
- A. ①②③ B. ②③ C. ①③④ D. ②④

23. 第二次工业革命使资本主义经济发生了重大变化。这一变化主要包括

- ①生产的社会化趋势加强 ②形成生产和资本高度集中的垄断组织
- ③加剧了殖民地半殖民地的贫困落后 ④促进了科学技术与生产相结合
- A. ①②③ B. ①②④ C. ①②③④ D. ①③④

中秋节是我国的传统佳节,虽然国家质检总局和国家标准委发布了《月饼强制性国家标准》,并将于 2006 年 6 月 1 日起实施,国家发改委、商务部、工商总局、质检总局也联合向社会发布公告,要求经营者对月饼“进行合理包装”“不得以任何形式搭售商品”,但天价月饼、搭售茶叶红酒的现象依然存在,有的明目张胆,有的转入到了地下。结合所学知识回答 24—26 题。

24. 上述情况说明

- A. 一个新的消费热点能够带动一个行业的发展
- B. 消费决定着生产的发展
- C. 国家应提倡适度消费,引导消费者转变消费观念,遏制过度包装
- D. “不求最好,但求最贵”,这是一种时尚,应提倡

25. 从经济学上看,商品搭售商品、天价礼品违背了市场交易的


- ①自愿原则 ②竞争原则 ③公平原则 ④平等原则
- A. ①②④ B. ①③④ C. ①②③ D. ②③④

26. 等价交换是商品经济的基本原则。所谓等价交换,就是指

- A. 相互交换的商品其使用价值必须相同
- B. 商品的价格应当同价值相一致
- C. 交换双方的商品其价值量要相等
- D. 每次交换时商品的价格必定与价值相一致

27. 右图是乌克兰画家科索布金的漫画作品,它主要体现的哲学寓意是

- A. 事物发展的道路是曲折的
- B. 矛盾双方在一定条件下相互依存,互为存在的前提,双方共处于同一体中
- C. 联系构成了运动、变化和发展
- D. 矛盾的双方依据一定的条件,各自向自己相反的方向转化



28. 有人认为,要么“统一”,要么“对立”,二者必居其一,不可兼得。这种观点违背了

- A. 矛盾双方的对立与统一始终是不可分割的道理
- B. 矛盾的主要方面和次要方面不可分割的道理
- C. 主要矛盾和次要矛盾相互关系的原理
- D. 普遍性和特殊性关系的原理

联合国成立 60 周年首脑会议于 2005 年 9 月 14 日至 16 日在纽约联合国总部召开,会议围绕如何加强联合国作用、推进联合国改革、维护世界和平、推动发展合作等问题展开讨论,并审议通过了经过艰苦磋商达成的《成果文件草案》。据此回答 29—30 题。

29. 下列关于联合国的叙述,不正确的有

- ①联合国成立于 1945 年 10 月 24 日
 - ②联合国由世界各国组成
 - ③联合国的司法机构是国际法院
 - ④联合国总部设在美国华盛顿
- A. ①②③ B. ②③④ C. ②④ D. ①③④

30. 下面有关我国与联合国关系的说法正确的是

- ①中国是联合国的创始国之一
 - ②中国是安理会常任理事国之一
 - ③中国对联合国的事业做出了重要的贡献,同时,我国人民也从联合国及其有关组织得到有益的支援
 - ④中国有时遵循联合国的宪章和原则,支持联合国根据宪章精神所进行的各项工作
- A. ①②③ B. ②③④ C. ①②④ D. ①③④

全国“五一劳动奖章”获得者、四川省木里藏族自治县邮递员王顺友同志 20 年如一日,一个人在雪域高原跋涉 26 万多公里的漫漫邮路,相当于走了 21 趟“二万五千里长征”。国家人事部、国家邮政局授予王顺友同志“全国邮政系统劳动模范”荣誉称号。据此回答 31—33 题。

31. 上述材料表明

- A. 人的社会价值与自我价值是统一的
- B. 社会价值与自我价值之间不存在矛盾
- C. 社会价值与自我价值是一回事
- D. 为人类造福需要提高人的自身素质

32. 他的行为表明:个人对社会的贡献

- ①是存在和发展的要求
 - ②是先进人物的基本特色
 - ③是人生价值的基本标志
 - ④受社会历史条件的制约
- A. ①③④ B. ①②③ C. ①②④ D. ②③④

33. 新时期,为保持党的先进性,我们应像王顺友那样具有

- ①爱岗敬业、尽心尽责的责任意识
 - ②坚定的理想信念、良好的职业道德
 - ③利民为民、无私奉献的崇高精神,乐观豁达、积极向上的人生态度
 - ④从平凡小事做起,从具体工作做起,把远大理想和人生追求落实到本职岗位上
- A. ①③④ B. ①②③ C. ①②④ D. ①②③④

34. 下列关于我国人民代表大会和人民代表制度的提法中,正确的是

- A. 我国的人民代表大会是我国根本政治制度
 B. 我国的人民代表大会制度是以人民代表大会作为政权的组织形式
 C. 我国的各级人民代表由选民直接选举产生
 D. 我国的人民代表制度是我国的国家权力机关
35. 各民族都有自己的特点和优点,都是人类物质财富和精神财富的创造者,都对人类社会历史的发展作出了贡献,因此
- A. 各民族应该一律平等
 B. 各民族都要实行区域自治
 C. 各民族应该实行融合
 D. 各民族都能迅速发展

第Ⅱ卷(非选择题 共160分)

二、本卷共4小题,共计160分。

36. (36分)读印度主要工业和原料分布图,回答问题。

(1)印度半岛东西两侧沿海地区的主要农作物是_____
 _____;印度的小麦主要分布在_____,农业的地域类型属于_____。(9分,每空3分)

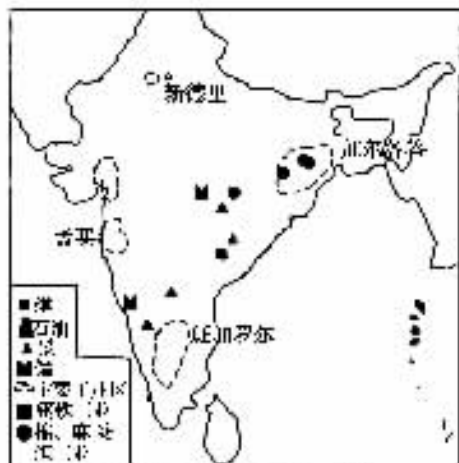
(2)加尔各答位于_____三角洲附近,盛产_____(热带经济作物),在此基础上发展了_____纺织工业。(9分,每空3分)

(3)印度向中国出口的商品主要为矿砂、钢铁、海产品和电子设备等,其中出口到我国的矿砂、钢铁主要来自_____,电子设备主要来自_____。(8分,每空4分)

(4)印度班加罗尔以计算机软件为主的信息产业举世闻名,若将我国的上海浦东打造成中国的“班加罗尔”,其有利的条件有哪些?(10分)

37. (32分)阅读下列材料,并结合所学历史知识回答问题。

材料一 沿海水师,率皆老弱无用,军器率多残缺,并不修整。又战船率用薄板旧钉,遇击即破,并不计及夷器之凶利坚固,作何抵御?似此废弛,何以肃边威远?



印度主要工业和工业原料分布图

——《鸿胪寺卿黄爵滋敬陈六事疏》(1835年)

材料二 御外之道,莫切于海防,海防之要,莫重于水师。

——《江苏巡抚吴元炳奏》(1874年)

材料三 “甲午一役,威海水陆之防,既毁于日本……”东三省海防,奉天尤重。自日占旅、大,辽东半岛藩篱尽撤。”

——《清史稿》

材料四 2005年9月27日上午10点30分由东海舰队护卫的中国自行研制建造的最新型最现代导弹护卫舰“温州”号由东海某军港出发正式投入服役,这标志着我国海军实力进一步提升。

——中新网

(1)材料一揭示了哪些问题?(3分)从海权和海防的角度看,这些问题最终导致了什么严重后果?请结合有关史实说明。(6分)

(2)分析材料二,吴元炳的这一奏议是否正确?(2分)对此,清政府采取了什么重大举措?请结合有关史实说明。(6分)

(3) 结合有关史实分析材料三,甲午一役,中国新式海军竟惨败于日本,其根本原因何在?(2分)中国海军惨败对中国的主权造成了哪些进一步的危害?(6分)

(4) 分析材料四,中国自行研制建造的最新型最现代导弹护卫舰“温州”号投入使用说明了什么?(3分)

(5) 综合上述四则材料,我们能得到什么认识?(4分)

38. (32分) 2005年9月9日至13日,中共中央政治局常委、国务院总理温家宝在广东考察时指出,东部沿海地区充分发挥优势,在全面建设小康社会的基础上,率先基本实现现代化,具有关系全局的重大战略意义。温家宝说,党中央、国务院高度重视东部沿海地区的发展。

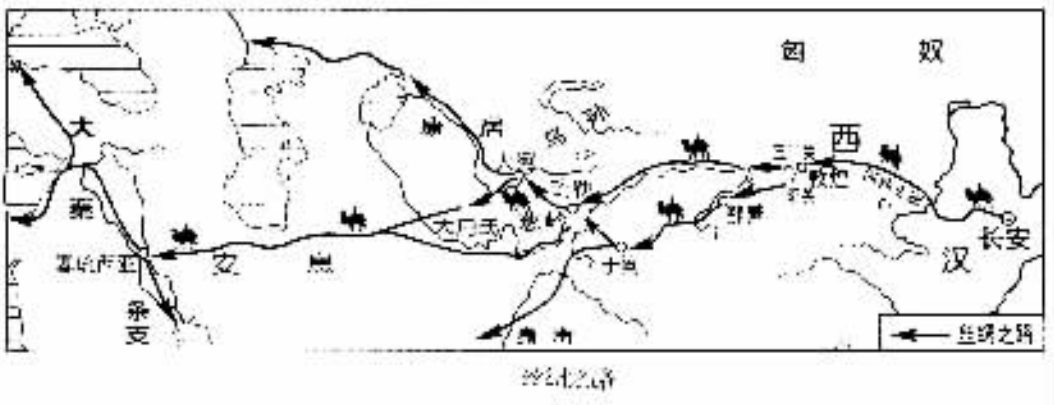
(1) 上述材料主要体现了哪些哲学道理?(10分)

(2) 运用所学经济常识,分析东部沿海地区率先发展的重要意义。(12分)

(3) 党中央、国务院高度重视东部沿海地区的发展。温家宝考察时指出,东部沿海地区在全面建设小康社会的基础上,率先基本实现现代化。这符合政治常识什么道理?(10分)

39. (60分) 阅读下列图片及材料并回答问题。

材料一




(1)图中的塞琉西亚是今天的什么地方?(2分)请列举我国古代在长安定都的主要朝代。(4分)依据所学知识分析我国古代的都城逐渐向东部地区迁移的原因。(2分)

(2)从图上看敦煌到葱岭的两条路线分布有何共同点?并分析其原因。(6分)

(3)陆上丝绸之路的开通有何重要的影响?(3分)

材料二



丝绸之路出土的西汉无极锦

(4)结合所学知识概述丝绸之路出土的西汉无极锦文物的历史价值。(3分)

材料三



沈阳的三菱美百利化工企业

(5) 安息、条支为今天伊朗高原和两河流域即西亚海湾地区,依据图片中的材料分析二战后西亚地区经济发展的特点。(2分)为加快当地经济发展他们曾采取了哪些措施?(4分)

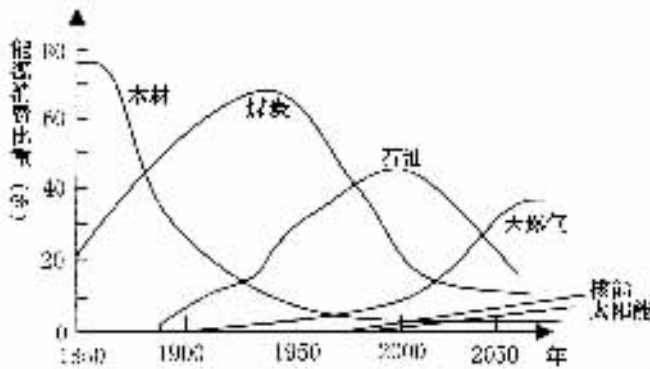
材料四 从2003年以来,国际原油价格一路上扬,到2004年一度冲破55美元/桶。之后有所回落,但仍在较高价位波动。

(6)请简述2004年国际原油价格一路上扬、剧烈波动的原因。(10分)

材料五 近一年来,石油供应和价格问题构成了中国经济发展的新挑战。石油是大自然天赋的财富,其储存量是有限的。人类要发展,需求又是无限的。只要这有限与无限的矛盾客观存在,“能源之争”不可避免。中国作为石油进口国,油价上涨增加了我们的支出,但也在促使我国尽快建立石油战略储备基地,节约能源,开发可替代的能源。石油作为一种基础性商品,是许多制成品的投入要素。石油涨价抬高了这些商品的成本,对“你中有我,我中有你”的全球经济不是个好消息。

(7)请运用哲学常识简析材料包含的哲理和给我们的启示。(10分)

材料六 下图为世界能源消费构成变化图



(8)从材料中可看出40年后天然气的消费比重将超过石油,其最主要的原因是什么?(4分)

材料七 根据哈萨克斯坦的方案,“泛欧亚铁路干线”是从中国东部沿海向西经新疆阿拉山口进入哈萨克斯坦境内,再横穿哈全境向西至里海的阿克套,然后转南进入土库曼斯坦。此后,“泛欧亚铁路”先后通过土库曼斯坦、伊朗和土耳其,再经过新建的14公里的波斯普鲁斯海峡铁路与欧洲铁路对接,最后抵达欧盟总部所在地布鲁塞尔。记者了解到目前欧洲同中国的绝大多数货物交易通过海运,需要55天时间的运输;另一条铁路运输通道经俄罗斯的西伯利亚,要走上15天至20天。而“泛欧亚铁路干线”开通后,从欧洲到中国只需8天。

(9)中亚的土库曼斯坦有“白金王国”之称,请分析土库曼斯坦的植棉优势条件。(3分)

(10)简要分析建设泛欧亚铁路干线的意义。(7分)